





NAME _____

DATE _____

COMPARING

If the fish is eating the greater number, then circle it. If not redraw the fish.

a) 1  7

b) 22  19

c) 20  14

d) 27  24


e) 16  18

f) 26  30

g) 37  32


h) 21  19

i) 11  9

j) 19  39

k) 40  32

l) 33  38

m) 39  40

n) 16  17

o) 13  39